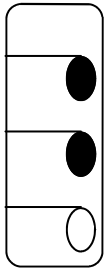
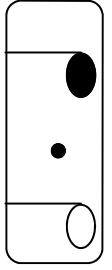
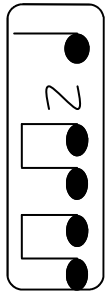
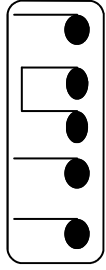


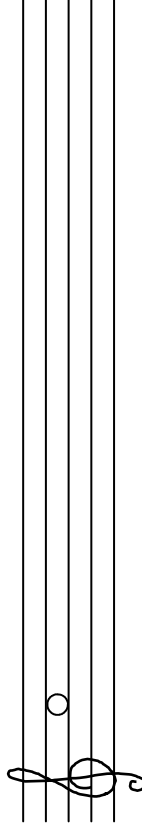
Evaluación 2

NOMBRE _____

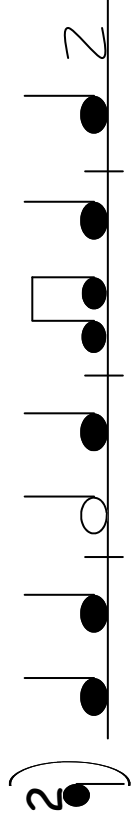
1.- Ordena estos ritmos según los escuches

○  ○  ○  ○ 

2.- Dibuja la escala en orden descendente

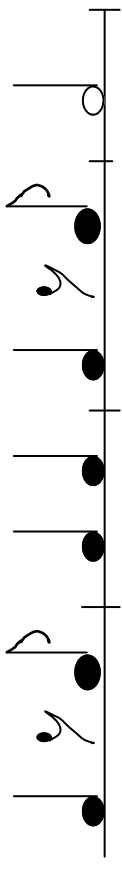
 _____

3.- Rodea el compás incorrecto, para ello marca los pulsos

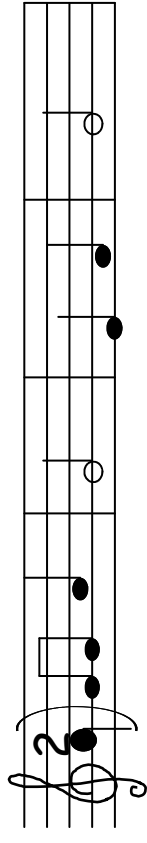




4.- Lee este ejercicio de ritmo



5.- Canta esta melodía



6.- Di el nombre de algún instrumento de cuerda
